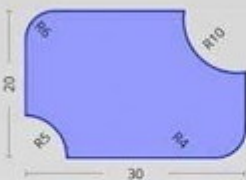







# Unterweisung der Jugend

Die „Entwicklung“ des Bildungsniveaus		
1970		Berechne die Fläche dieser Figur
1985		Berechne die Fläche dieses Rechtecks
2000		<ol style="list-style-type: none"><li>1. Welche Länge hat die Basis dieses Rechtecks?</li><li>2. Berechne die Fläche des Rechtecks, indem Du die Länge mit der Höhe multiplizierst.</li></ol>
2010		Markiere die korrekte Fläche des Rechtecks <input type="checkbox"/> 4000 <input type="checkbox"/> 600 <input type="checkbox"/> 800000
2015		Markiere die korrekte Fläche des Rechtecks <input type="checkbox"/> Banane <input type="checkbox"/> Andreas Gabalier <input type="checkbox"/> 600 <input type="checkbox"/> Das Dschungelcamp
2018		Wenn es Dir keine Umstände macht, male das Rechteck mit Deiner Lieblingsfarbe an.

„Alle Unterweisung der Jugend hat dieses Beschwerliche an sich, daß man genötigt ist, mit der Einsicht den Jahren vorzueilen, und, ohne die Reife des Verstandes abzuwarten, solche Erkenntnisse erteilen soll, die nach der natürlichen Ordnung nur von einer geübteren und versuchten Vernunft könnten begriffen werden.“ (Immanuel Kant: [Nachricht von der Einrichtung seiner Vorlesungen](#) in dem Winterhalbenjahre von 1765/1766)